



5 ශ්‍රේණිය - පළමු වාරය, 2020

ආදර්ශ ප්‍රශ්නපත්‍රය 2

01. ප්‍රශ්න සියල්ලටම පිළිතුරු මෙම පත්‍රයේ ම ලියන්න.

* පහත ඡේදය කියවා පිළිතුරු ලියන්න.

අන්‍යයන් වෙනුවෙන් සේවය කිරීම සඳහා අවශ්‍ය වන්නේ ඒ සඳහා ඇති කැමැත්ත හා කැපවීම පමණි. පාසල් දරුඤාරියන් වෙනුවෙන් එබඳු අප්‍රමාණ මෙහෙවරක් ඉටු කරන අත්තමිමා කෙනෙකු අපි හඳුනා ගනිමු.

ඇය නමින් ලිලි වයලට් ය. පොලිසියේ හෝ වෙනත් ආරක්ෂක අංශයක සේවාවක් නොවෙතත් නිල නොලත් එවැනි ම රාජකාරියක ඇය නියැලෙනුයේ ස්වේච්ඡාවෙන් ම ය.

1. ඡේදයේ සඳහන් අත්තමිමාගේ නම කුමක් ද?
2. අන්‍යයන් වෙනුවෙන් සේවය කිරීමට අවශ්‍ය වන්නේ මොනවා ද?.....
3. අත්තමිමා එම සේවය කරනුයේ කා වෙනුවෙන් ද?
4. 'හ' අක්ෂරයට 'එ' ශබ්දය යෙදෙන වචනය තෝරා ලියන්න.
5. 'තමන්ගේ කැමැත්ත අනුව' යන අදහස දෙන පදය තෝරා ලියන්න.....
6. 'අපි හඳුනා ගනිමු' යන වාක්‍යය ඒක වචනයට හරවා ලියන්න.....

02. පහත සඳහන් යෙදුම් පැහැදිලි කර තිත් ඉරි මත ලියන්න.

1. ඉහේ මලක් පිපුණා
2. මොර සුරන වැස්ස

03. ගැළපෙන විරාම ලකුණු යොදන්න.

1. සියේ මම කියන්න ද
2. නිසරණ සරණ වේවා

04. විකසිත වූ නෙලුම් මල් වටා මී මැස්සෝ රඟ දෙති. මෙහි විකසිත යන පදයේ අදහස ලියන්න.

.....

05. නිවැරදි ක්‍රියා පදය යටින් ඉරක් අඳින්න

- | | |
|---------------------------------------|--|
| 1. අමිමා සහ නාත්තා පාසලට (යයි. / යනි) | 2. ඇත අහසේ ගුවන් යානා ගමන් (කළේ ය/කළෝ ය) |
| 3. අපි ඊයේ මල් පුපා (කරමු / කළෙමු) | 4. ගැහැනිය දර කැඩීමට (ගියේ ය / ගියා ය) |

06. මෙම වැකි ලේඛන වහරට හරවා ලියන්න.

1. මම පාසලට යාමට සූදානම් වුණා. -.....
2. ළමයි පන්තිය පිරිසිදු කරනවා. -.....

07. සුදුසු වචනය යොදා හිස්තැන පුරවන්න. ආඩි හත් දෙනාගේ වගේ

08. වචන ගලපා අර්ථවත් වාක්‍යයක් ලියන්න.

යහපත්/ කුඩා / සිට ම / කාලයේ / පුරුදු / සිරිත් / යුතුය / කළ

.....

09. නිවැරදි අක්ෂර වින්‍යාසය සහිත වචනය යටින් ඉරක් අඳින්න.

- | | |
|------------------|---------------------|
| i. නොකාව / නොකාව | ii. ගැටලුව / ගැටළුව |
|------------------|---------------------|

10. එක තීරණයක නොසිටීම- මෙයට ගැළපෙන පිරුළු ලියන්න.....


11. යුගල පදය සම්පූර්ණ කරන්න.

i. තෑගි - ii. යාන -

12. එක් එක් ඉංග්‍රීසි වචනයේ අර්ථය සිංහලෙන් ලියන්න.

i. Classroom - ii. Picture -

13. එක් එක් රූපයට ගැළපෙන ඉංග්‍රීසි වචනය ඉංග්‍රීසි අකුරින් ම ලියන්න.



.....



.....

14. පහත වචන නිවැරදිව ගලපා අර්ථවත් වාක්‍යයක් ලියන්න.

going / am / to / school / I -

15. i. නූලහම්' යන දෙමළ වචනයේ අර්ථය සිංහලෙන් ලියන්න.....

ii. මෙම වාක්‍ය දෙමළෙන් කියන ආකාරය සිංහලෙන් ලියන්න.

a) ඔයාට වතුර ඕනෑ ද? -.....

b) ගුරුවරයා කොහේ ද? -.....

පිළිතුර ලියන්න.

16.

6,	3
4,	0, 7

 රවුම තුළ ඇති ඉලක්කම් සියල්ලම යොදාගෙන සෑදිය හැකි කුඩාම

i. සංඛ්‍යාව ලියන්න

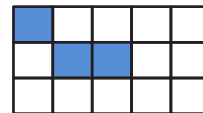
ii. එම සංඛ්‍යාව අකුරින් ලියන්න.....

17. පිළිතුර රෝම සංඛ්‍යාවෙන් දක්වන්න $V + IV =$

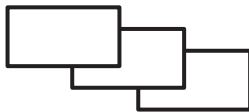
18. පහත සංඛ්‍යා අවරෝහණ ක්‍රමයට සකස් කරන්න.

13 680, 38 950, 24 930 , 41 005 -.....

19. පාට කළ කොටස මුළු රූපයෙන් - වීමට ඉතිරි කොටස පාට කරන්න.



20. i. මෙම රූපය තුළ ඇති සෘජුකෝණා ගණන කීය ද?.....



ii. මෙම රූපයේ සෘජුකෝණාසු කීයක් තිබේ ද?.....



21. වත්තක අඹ පැළ 3465 ක්ද, කොස් පැළ 1034 ක්ද, පොල් පැළ 2085 ක්ද සිටුවා ඇත. එහි ඇති මුළු පැළ ගණන කීයද?

22. 60m ක් දිග 40 m ක් පළල සෘජුකෝණාස්‍රාකාර ඉඩමක් වටා කණු 2ක් අතර පරතරය 5m වනසේ කම්බි කණු සිටුවීමට අවශ්‍ය කම්බි කණු ගණන කීයද?

23. එකට යාව ඇති සමාන දිග පළලින් යුත් මල් පාත්ති 3 ක සටහනක් පහත දැක්වේ. මෙම සටහනේ



වටේ දිග 96 m කි එක පාත්තියක පැත්තක දිග කොපමණද?.....

24. පෙට්ටියක පැන්සල් 4 ක් දැමිය හැකි නම් පැන්සල් 824 ක් දැමීමට පෙට්ටි කීයක් අවශ්‍ය වේ ද?

46. ස්වයංපෝෂිත බව රාජ්‍ය ලාංඡනයේ නිරූපනය කරනු ලබන්නේ,
 1) ධර්මවතුය 2) විකර්ම 3) පුන්කලස 4) ඉර හා හඳ
47. කල් ඉකුත්වූ ආහාර ගැනීමෙන් සිදුවිය නොහැක්කේ,
 1) වමනය සෑදීම 2) සමේ පලු හටගැනීම. 3) ශරීර ශක්තිය වැඩිවීම 4) නොල් ඉදිමීම.
48. ආර්ථිකමය වාසි ලබා නොදෙන සතෙකි,
 1) උයුරා 2) කිකිලිය 3) එළුවා 4) බළලා
49. රාත්‍රී කාලයේ පයින් ගමන් කිරීමේදී ඇදීමට සුදුසු වර්ණය වන්නේ,
 1) කළු 2) රතු 3) සුදු 4) නිල්
50. බයිබලය කුමන ආගමික ආගමික ග්‍රන්ථයක් ද?
 1) නින්දු 2) ක්‍රිස්තියානි 3) ඉස්ලාම් 4) බෞද්ධ
51. පූර්ණ ලෙස සකස් කළ ආහාරයකි,
 1) නුඩල්ස් 2) යෝගට් 3) පපඩම් 4) සැමන්
52. මූලික මැනුම් ක්‍රමයකි.
 1. කනිර මැස්ම 2) දුම්වැල් මැස්ම 3) බොරු නූල් ඇදීම. 4) හුරුළුකටු මැස්ම
53. අපිරිසිදු ජලය පානය කිරීම නිසා වැළඳෙන රෝගයකි
 1. කම්මුල්ගාය 2) කොරෝනා 3) සංගමාලය 4) සෙම්ප්‍රතිශ්‍යාව
54. කණ්ඩායමට ක්‍රීඩකයන් 11 දෙනෙක් පමණක් ක්‍රීඩා කරන ක්‍රීඩාවකි.
 1) එල්ලේ 2) ක්‍රිකට් 3) අත්පන්දු 4) මේස පන්දු
55. මේ දිනවල ලෝකය පුරා පැතිරී යන වෛරස් රෝගය වන්නේ
 1) කොරෝනා 2) කුරුලු උණ 3) සංගමාලය 4) කොලරාව
56. වැල්වල සෑදෙන පලතුරු වර්ගයකි.
 1) දඹල 2) කරවිල 3) මිදි 4) නෙල්ලි
57. ඉරබටු තරුව ලෙස හඳුන්වන ග්‍රහලෝකය වන්නේ,
 1) අගනරු 2) සිකුරු 3) සෙනසුරු 4) පෘථිවිය.
58. සමාජ විරෝධී ක්‍රියාවක් නොවන්නේ,
 1) මත් ද්‍රව්‍ය විකිණීම 2) ළමුන් මෙහෙකාර සේවයට ගැනීම.
 3) පුවත්පත් විකිණීම 4) පොදු ස්ථානවල දුම්පානය
59. පහත ද්‍රව්‍ය අතරින් ජලයට දැමූ විට ජලයේ පාවෙන්නේ
 1) අයිස් කැටය 2) යකඩ ඇණය 3) විදුරු කැබැල්ල 4) ගල් කැටය
60. 'පෙළ පොත් ආරක්ෂා කරමු' යන මාතෘකාව යටතේ ඔබ කළ දේවල් සහ ඔබට කළ හැකි දේවල් පැහැදිලි කරමින් උක්ත ආබ්‍යාස සම්බන්ධය හා අක්ෂර වින්‍යාසය නිවැරදි වචන පහකට වැඩි වාක්‍ය තුනක් ලියන්න.
 1.....

 2.....

 3.....
